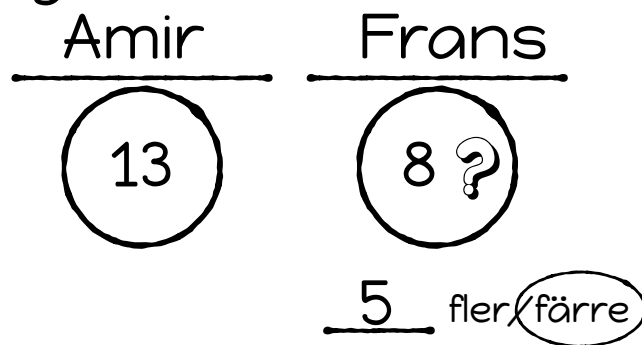


Så här är det tänkt att man ska använda mallen tillsammans med en räknehändelse. Det är ett stöd för eleverna när de ska räkna ut och hålla reda på de olika svaren.

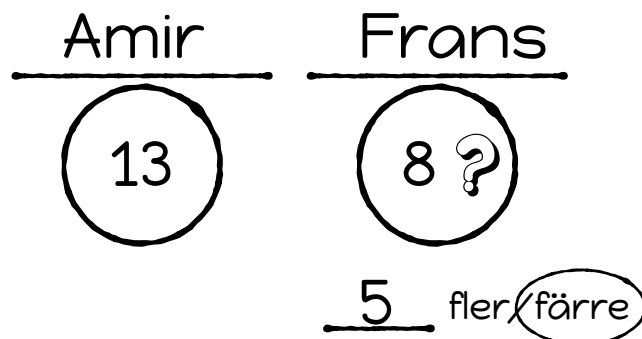
Amir har 13 godisar och Frans har 5 färre. Hur många godisar har Frans?



1. $13 - 5 = 8$

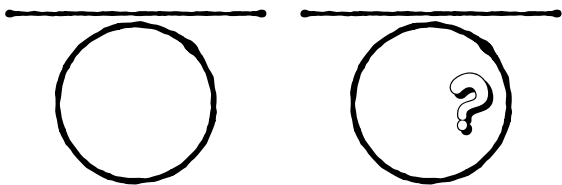
2. _____

Amir har 13 godisar och Frans har 5 färre. Hur många godisar har de tillsammans?



1. $13 - 5 = 8$

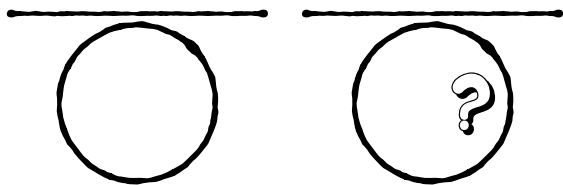
2. $13 + 8 = 21$



_____ fler/färre

1.

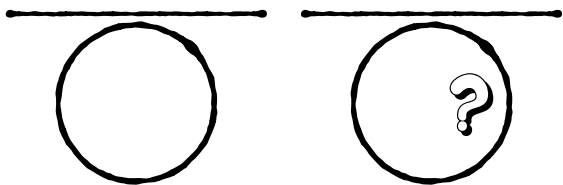
2.



_____ fler/färre

1.

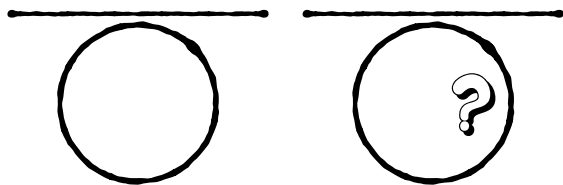
2.



_____ fler/färre

1.

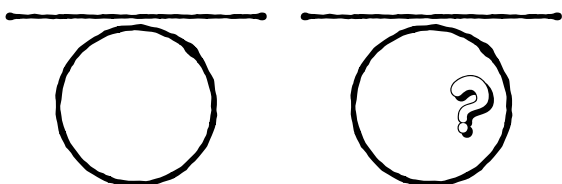
2.



_____ fler/färre

1.

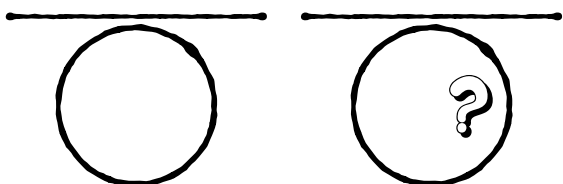
2.



_____ fler/färre

1.

2.



_____ fler/färre

1.

2.
